




**Тема:**


---

# Игра «Ярмарка»


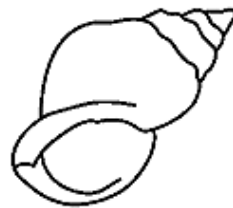
1. Раскрась картинку, которая расскажет о твоей профессии. Подпиши название профессии.



2. Выбери и раскрась товар, который ты обменивал.



3. Выбери и раскрась товары, которые тебе было необходимо приобрести.



4. Справился ли ты с заданием, подчеркни нужный ответ:

*справился полностью*

*справился частично*

*не справился*

5. Напиши, с какими трудностями ты столкнулся:

---

---

---

---

---

---

---

---



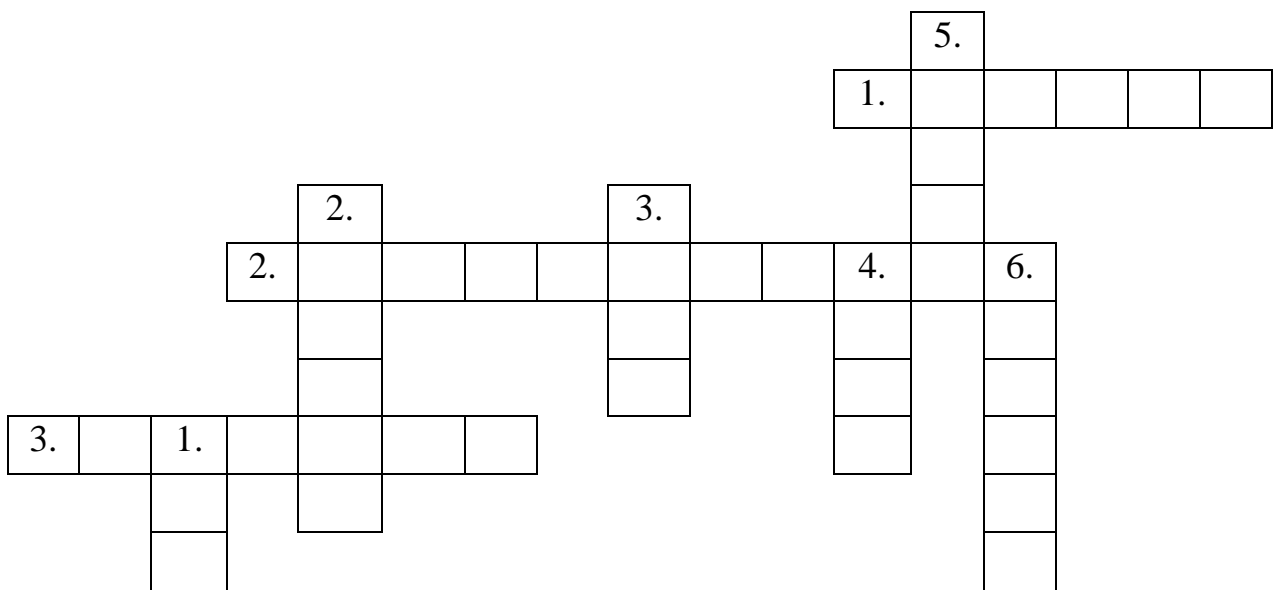
## Кроссворд к уроку "Как появились деньги"

### *По горизонтали:*

1. Чем наградил Пётр Первый математика Леонтия Магницкого за создание первого русского учебника арифметики?
2. Где в роли товарных денег был ячмень?
3. Кто выполнял роль денег у кочевников?

### *По вертикали:*

1. Зёрна какого растения являлись основной "единицей богатства" в Японии?
2. Что являлось самой мелкой "разменной единицей" в Месопотамии?
3. Что было основной "единицей богатства" в Японии вплоть до XIX века?
4. Какой металл использовали при изготовлении монет для мелких сделок?
5. Самый знаменитый пример первых "товарных денег".
6. Зёрна какого растения являлись самой мелкой "разменной единицей" в Месопотамии?



# Первые деньги.

1. Какое второе название имеют первые деньги?

---

2. Используя текст учебника определи, что являлось «товарными деньгами» в разных странах.

Африка, Индия, Индокитай,	ячмень
Северная Америка, острова Тихого океана	бусы
Русь	рис (коку)
Месопотамия	звериные шкуры
Япония	верблюды
кочевые племена	ракушки каури

3. Выбери основные свойства, которыми должен обладать «товар посредник», и обведи их.

- |                                 |            |
|---------------------------------|------------|
| - признан всеми                 | - нужный   |
| - возможность дать сдачу        | - дорогой  |
| - не должен быстро изнашиваться | - прочный  |
| - занимает мало места           | - красивый |
| - защищен от подделок           | - легкий   |

#### 4. Собери пословицы.

Копейка рубль	а имей сто друзей.
Без копейки	только подпоясаться.
День что пух	бережет.
Не имей сто рублей	рубля нет.
Деньги любят	разум рождает.
Чем богаты	только дунь на них их нет.
Бедному собратся	счет.
Не с богатством жить	тем и рады.
Богатство	а с человеком.

### **История монет.**

#### 1. Отгадай загадку.

Маленькая, круглая, из кармана в карман скачет,  
весь мир обскачет. Ни к чему сама не годна, а всем  
нужна. \_\_\_\_\_

2. Подпишите название частей монеты.



### 3. Практическая работа.

Рассмотрите монету и ответьте на вопросы.

1. Что изображено на аверсе монеты.

---

2. По реверсу определите номинальную стоимость монеты.

---

3. Определите тип гурта монеты.

---



4. В Российской Федерации монеты печатают на Московском монетном дворе и Санкт-Петербургском монетном дворе.

У обычных монет эмблемы монетных дворов чаще всего находятся на реверсе монеты под лапой орла с правой стороны.

Обведите номер рисунка, соответствующего клейму, расположенному на аверсе вашей монеты. По типу клейма, определите название монетного двора, выпустившего монету. Где и какое клеймо изображено?



1



2

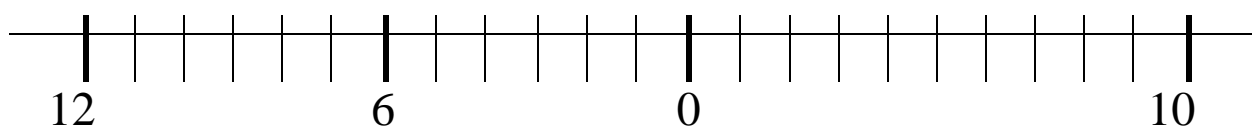


3



4

4. Подпиши названия монеты на ленте времени, в соответствии с их появлением.



Слова для справки: русская, китайская, лидийская.



5. Объясни названия монет Римской империи.



Ауреус - \_\_\_\_\_

\_\_\_\_\_

Денарий - \_\_\_\_\_

\_\_\_\_\_

6. Запиши номинальную стоимость монет, принятых в обращение на Руси при Петре I.

Рубль - \_\_\_\_\_

Гривенник - \_\_\_\_\_

Двугривенный - \_\_\_\_\_

Полтинник - \_\_\_\_\_

Пятак - \_\_\_\_\_

Червонец - \_\_\_\_\_



# Бумажные деньги.

1. Какие деньги называют «наличными»? \_\_\_\_\_

---

---

2. Назови причину появления бумажных денег. \_\_\_\_\_

---

3. Как ты понимаешь: «Бумаги обеспечены золотом и серебром».



Государственный кредитный билет 1899 года в 50 рублей с надписью «Государственный банк разменивает кредитные билеты на золотую монету без ограничения суммы (1 руб.=1/15 имперяла, содержит 17,424 долей чистого золота)», которая соответствовала действительности до 27 июля 1914 года

4. Запиши «плюсы» и «минусы» бумажных монет.

«ПЛЮСЫ»	«МИНУСЫ»

## 5. Практическая работа № 1.

Найдите на ваших купюрах следующие элементы защиты денежных знаков.



1. **Скрытые радужные полосы.** На лицевой стороне банкнот расположено поле, заполненное тонкими параллельными линиями. При каком расположении банкноты поле выглядит однотонным, а при на поле возникают многоцветные (радужные) полосы.

**2. Микроперфорация.** При рассматривании банкноты против источника света на ней видны микроотверстия, которые выглядят яркими точками. Бумага в месте расположения микроотверстий не должна восприниматься шероховатой на ощупь. Определите, какой текст сформирован микроотверстиями.

---

---

**3. Ныряющая металлизированная нить.** В бумагу банкнот внедрена металлизированная защитная нить, которая видна на оборотной стороне банкнот в виде блестящих прямоугольников, образующих пунктирную линию. При рассматривании банкнот на просвет защитная нить выглядит сплошной тёмной полосой.

**4. Цветопеременная краска.** Цветопеременная краска меняет цвет при изменении наклона банкноты. - На банкнотах номиналом 500 рублей цветопеременной краской выполнена эмблема Банка России. - На банкноте достоинством 1000 рублей цветопеременной краской выполнен герб города Ярославля. Как изменяются цвета изображений при рассматривании банкноты под разными углами.

---

---

**5. Защитные волокна.** В бумаге банкнот хаотично расположены цветные защитные волокна. Определите их цвет.

---

6. **Рельефное изображение.** Текст "БИЛЕТ БАНКА РОССИИ" в верхней правой части лицевой стороны банкнот и метка для людей с ослабленным зрением в нижней части узкого купонного поля имеют рельеф, воспринимаемый на ощупь. Найдите его.

7. **Скрытое изображение.** На орнаментальной ленте банкнот при горизонтальном их расположении на уровне глаз под острым углом падающего света видны буквы "РР". Из каких элементов состоят.

---

8. **Водяной знак.** При рассматривании банкноты на просвет на купонных полях видны многотонные водяные знаки. Определите, что изображено на узком и широком купонном поле. Водяной знак, расположенный на широком купонном поле, имеет плавные переходы тона от светлых участков к тёмным.

---

---

9. **Микротекст** Микротекст состоит из букв "ЦБР" и цифрового обозначения номинала.



## 6. Практическая работа № 2.

### Современные банкноты Российской Федерации.

1. Рассмотрите современные банкноты РФ и определите, изображения каких городов помещено на банкноты.

10 рублей - \_\_\_\_\_

50 рублей - \_\_\_\_\_

100 рублей - \_\_\_\_\_

500 рублей - \_\_\_\_\_

1000 рублей - \_\_\_\_\_

5000 рублей - \_\_\_\_\_



2. Если бы тебе предложили разработать эскиз новой банкноты РФ, то какое изображение ты бы поместил на купюру? Почему?

---

---

---

---

---

---

---

# Безналичные деньги.



1. Что такое банк?

---

---

---

---

2. Каковы функции банка?

---

---

3. Как рассчитать доход банка? Составь формулу.

---

4. Составь схему наличного и безналичного расчета, используя слова: плательщик (ПЛТ), получатель (ПЛЧ), банк(Б).

---

наличный расчет

---

безналичный расчет



5. Перечисли функции банкомата.

---

---

---

---

---

---

---

---



6. Дай определение:

Расчетные карты - \_\_\_\_\_

---

---

Кредитные карты - \_\_\_\_\_

---

---





# Валюта

1. Продолжи определение:

Валюта – это \_\_\_\_\_

---

---

2. Назови национальную валюту Российской Федерации. \_\_\_\_\_

3. Какого достоинства банкноты находятся в обращении в РФ в данное время? \_\_\_\_\_

---

4. Запиши символ рубля. \_\_\_\_\_

5. Что такое «резервная валюта»? Приведи пример.

---

---

---



6. Евро – официальная валюта 18 европейских стран.

Как ты думаешь, почему нет единой мировой валюты? Приведи свои аргументы «за» и «против» единой мировой валюты.

«за»	«против»

7. Соедини название страны и название ее национальной валюты.

Швеция

Доллар

Россия

Фунт

Великобритания

Крона

США

Рубль

Германия

Евро

Турция

Шекель

Франция

турецкая лира

Израиль




## 8. Найди на карте страны, входящие в Евросоюз.



9. На контурной карте найди и раскрась территории стран, входящих в Евросоюз.



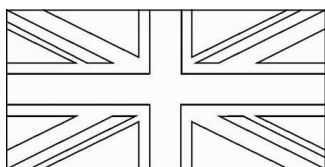
10. Раскрась флаги стран Евросоюза.




Флаг

Евросоюза.


Великобритания



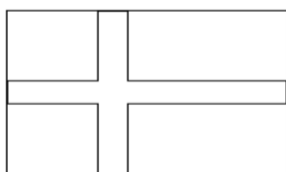
Бельгия



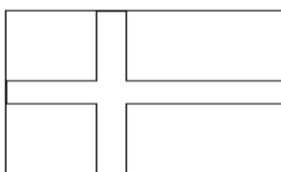
Люксембург




Дания




Швеция



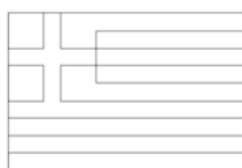
Франция



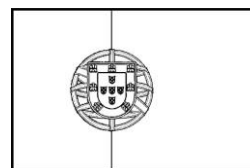
Ирландия




Греция




Португалия




Австрия



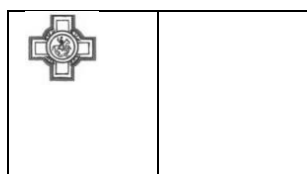
Венгрия




Италия




Мальта



Польша



Болгария



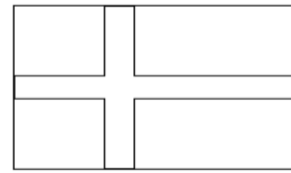
Латвия




Эстония



Финляндия




Германия




Кипр



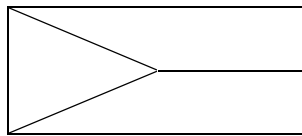
Испания



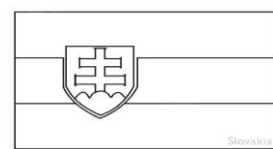
Нидерланды



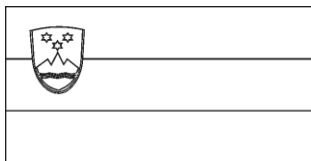
Чехия




Словакия



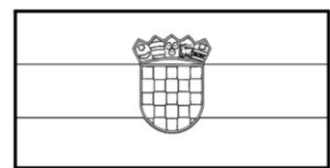
Словения



Румыния



Хорватия



Литва

